

## 林口國中 八年級下學期社會補考講義

### 【公民科】

1. 下列何者是民法的身分關係？

(A)買賣 (B)借貸 (C)租賃 (D)婚姻

2. 民法的限制行為能力是哪個年齡範圍？

(A)未滿 7 歲 (B) 7 歲以上未滿 20 (C)滿 20 (D) 7 歲以上未滿 14

3. 今年 14 歲的國中生，下列哪件事情不用法定代理人同意？

(A)用壓歲錢交 2 萬元補習費 (B)買 1000 元的洗面乳 (C)跟同學看電影 (D)申辦手機門號

4. 小方路上被開車的阿盛擦撞。小方僅僅擦傷，決定不報警；阿盛賠償小方 1000 元，兩人交換名片後各自離開。請問這是民事糾紛的哪種處理方式？

(A)訴訟外和解 (B)調解 (C)訴訟上和解 (D)訴訟

5. 調解委員會是在哪個政府單位？

(A)法院 (B)縣市政府 (C)鄉鎮市區公所 (D)村里長辦公室

6. 有關民事訴訟的規定何者正確？

(A)法官主動調查與蒐證 (B)檢察官指揮警察辦案 (C)三審一定要帶律師 (D)任何案件都可以上訴到最高法院

7. 下列哪個是從刑？

(A)有期徒刑 (B)拘役 (C)罰金 (D)褫奪公權

8. 某件事情雖然不道德且讓社會上大多數人無法接受，但法律並沒有規定這種行為是犯罪，所以不能用刑罰處罰。這是哪個概念？

(A)罪刑法定原則 (B)誠實信用原則 (C)契約自由原則 (D)時效消滅原則

9. 刑法的限制責任能力是哪個年齡範圍？

(A)未滿 14 歲 (B) 14 歲以上未滿 18 (C)滿 18 (D) 12 歲以上未滿 18

10. 下列哪個是告訴乃論罪

(A)偷竊 (B)搶奪 (C)強盜 (D)普通傷害

11. 下列哪個是法官的職權？

(A)審判 (B)指揮辦案 (C)受理報案 (D)執行判決

12. 下列哪個是檢察官的職權？

(A)審判 (B)指揮辦案 (C)受理報案 (D)替被告辯護

13. 被胖虎毆打後，大雄到警察局報案，表示要向胖虎追究到底。大雄的行為在法律上怎麼稱呼？  
(A)告訴 (B)告發 (C)自訴 (D)公訴
14. 下列哪些是行政法規？(甲)社會秩序維護法 (乙)民法 (丙)道路交通管理處罰條例 (丁)刑法  
(A)甲乙 (B)丙丁 (C)甲丙 (D)乙丁
15. 下列哪些是行政罰？(甲)罰金 (乙)拘役 (丙)罰鍰 (丁)拘留  
(A)甲乙 (B)丙丁 (C)甲丙 (D)乙丁
16. 「許記燒鴨店」被開了張 20 萬的罰單。許老闆要求撤銷罰單，他首先該怎麼做？  
(A)請願 (B)訴願 (C)行政訴訟 (D)陳情
17. 未成年不可去不良場所也不可抽菸喝酒，是哪部法律規定？  
(A)少年事件處理法 (B)兒童及少年福利與權益保障法  
(C)兒童及少年性剝削防制條例 (D)勞動基準法
18. 今年 25 歲工程師找未滿 18 女生從事性交易。會用哪個法律來起訴？  
(A)少年事件處理法 (B)兒童及少年福利與權益保障法  
(C)兒童及少年性剝削防制條例 (D)勞動基準法
19. 十五歲少年偷竊被抓到，用哪個法律處理？  
(A)少年事件處理法 (B)兒童及少年福利與權益保障法  
(C)兒童及少年性剝削防制條例 (D)勞動基準法
20. 勞基法的童工年齡是幾歲？  
(A)十八以上未滿二十 (B)十六以上未滿十八 (C)十五以上未滿十六 (D)十四以上未滿十五

【歷史科】

21. 某書提及：「清廷想收回民間集資興建鐵路的權利，所以針對民間已投資者提出補償：在湖南、湖北，投資金額全數償還；在廣東，僅償還60%，其餘40%由政府股票支付；在四川，政府僅發給股票。這種處置引起四川士紳激憤，朝廷為控制騷亂，將部分湖北軍隊調往四川。」上述情況最可能為下列何者的發生提供了機會？  
(A)自強運動 (B)戊戌政變 (C)武昌起事 (D)義和團事變  
Ans：C【104年會考】(1-1)
22. 清末，朝野人士面對外力的衝擊，提出不少意見。一日，小周在路上看到一張標語寫著：「驅逐韃虜，恢復中華，創建民國，平均地權。」請問：張貼此標語的應為下列何派人士？  
(A)立憲派 (B)守舊派 (C)投降派 (D)革命派  
Ans：D(1-1)
23. 清末國勢不振，袁世凱因能力出眾而得到編練新式軍隊的機會，進而掌握軍事權力後崛起，陸續擔任民國的臨時大總統、正式大總統。請問：袁世凱成為臨時大總統與其掌握軍事權力有何關係？  
(A)袁世凱利用武力推翻中華帝國 (B)袁世凱利用武力逼迫溥儀退位

(C)袁世凱利用武力逼孫中山讓位 (D)袁世凱利用武力護衛革命活動

Ans : B(1-2)

24. 中國近代史上某一時期，曾有教授和大學生主張以口語化的新文學取代舊式古典文學，並有意識地反對許多傳統觀念與習俗，將婦女從傳統束縛中解放出來。這樣的主張應出現於下列何時？

(A)自強運動 (B)百日維新 (C)立憲運動 (D)新文化運動

Ans : D(2-1)

25. 在五四運動以前，鼓吹西方文化的雜誌只有新青年等數種，到民國8年6月以後，新出現的刊物竟高達百餘種，全力宣揚各種新潮思想。從這種成長，可以看出五四運動帶來什麼樣的改變？

(A)仇視洋人，各地出現教案 (B)新文化運動的影響擴大  
(C)中國改以「天朝」自居 (D)推行自強運動，富國強兵

Ans : B(2-1)

26. 民國初年，某家報社的報導如下：教育部順應各界呼籲，頒發命令要求首都學務局、各省教育廳、各地高等與師範學校，根據國語同一籌備會函，將新式標點符號頒行全國。請問：教育部頒布此令的主要目的，最有可能是下列何者？

(A)能更便利閱讀文言文 (B)能避免斷句不同造成誤解  
(C)能更有利於推廣印刷術 (D)能讓就讀小學者增加

Ans : B(2-1)

27. 許多大型活動都會設計獨特的圖案和口號，一方面宣示主張，一方面加強印象，政治活動也是如此。下列何者是五四運動時的代表口號？

(A)外爭主權，內除國賊 (B)停止剿共，一致抗日  
(C)推翻滿清，建立民國 (D)革命無罪，造反有理

Ans : A(2-2)【110北北基】

28. 在某本以近現代中國為背景的小說中寫到：「最近，國家開始實施新政策，由政府指定中央、交通、中國這幾家銀行發行法幣。我想，此政策若真能好好實行，改善過去幣制混亂的情況，買賣交易就比較好做了。」這段話所呈現的最可能是中國處於下列何種局勢下的情況？

(A)戊戌變法期間，朝廷推動經濟改革 (B)八國聯軍結束，朝廷陸續推行新政  
(C)中華民國初創，政府收繳民間銀兩 (D)北伐統一完成，政府致力建設發展

Ans : D【改寫自105年會考】(3-1)

29. 阿芳到中國陝西一帶旅遊，途中看到一個紀念碑，上面記載著關於中共紅軍突破國軍包圍後的「二萬五千里長征」。請問：「二萬五千里長征」的歷史背景，應該是下列何者？

(A)蔣中正誓師北伐，完成統一 (B)國民政府五次圍剿中共  
(C)日本進占東北地區，紅軍向西南方撤退 (D)張學良希望國內一致抗日，因而發動兵諫

Ans : B(3-1)

30. 靜怡在書中看到一段話：「民國20年日軍自行炸毀瀋陽附近的一段鐵路，然後藉口是中國軍隊所為，立即發兵進占東北，由此可知日本對中國的侵略野心。」以上的內容，敘述的應是下列哪一事件的發生經過？

(A)牡丹社事件 (B)西安事變 (C)九一八事變 (D)滿洲國成立

Ans : C(3-2)

31. 以下是一位旅行者到訪上海後的見聞：「市區工廠地帶可以看到日本戰機轟炸的痕跡，但是如果來到租界區，興盛的商業中心立即映入眼中。在此，歐、美國家的主要銀行林立，國民政府的官方銀行：中央銀行，以及中國銀行、交通銀行等仍然繁忙地繼續營業，處理租界區內的金融交易。」此人最可能是在下列何時參訪上海？

(A)1830年代 (B)1890年代 (C)1930年代 (D)1990年代

Ans : C【107年會考改寫】(3-3)

32. 2019年12月報載，婦女救援基金會將紀錄片阿媽的秘密原始膠捲捐贈給國家電影中心。婦援會表示，本片忠實記錄戰時受害者臺灣阿嬤們的故事。請問：該片的主題，最有可能是下列何者？

(A)南京大屠殺 (B)珍珠港事變 (C)核爆受難者 (D)慰安婦事件

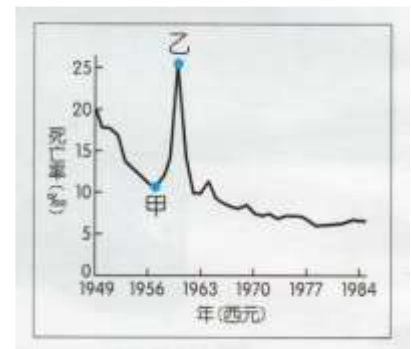
Ans : D(3-3)

33. 學界雖對這項國際會議仍有討論，不過國民政府在會議上取得美國總統羅斯福的支持，遂於會議的次年，設立了臺灣調查委員會，進行接收臺灣的準備工作，這也是國民政府對臺政策轉趨積極的重要開端。請問：這項國際會議最有可能是下列何者？

(A)巴黎和會 (B)開羅會議 (C)雅爾達會議 (D)聯合國大會

Ans : B(3-3)

34. 右圖是參考某段期間中國人口死亡率估算值而繪製的曲線圖，圖中甲、乙二點之間死亡率的變化，最可能與下列何者有關？



(A)人民響應抗美援朝，參與韓戰而造成傷亡慘重  
(B)大躍進運動期間，政策失當所導致的嚴重饑荒  
(C)文化大革命時，紅衛兵鬥爭造成眾多人口死亡  
(D)六四天安門事件爆發，政府鎮壓大量抗議群眾

Ans : B【106年會考】(4-2)

35. 中華人民共和國有一個時期流行的順口溜如下：「老子英雄兒好漢，老子反動兒混蛋。」、「打倒劉少奇！打倒走資派！」在街頭巷尾還能看到類似右圖的大字報。這樣的內容會出現在哪一個時期？



(A)大躍進 (B)大饑荒 (C)文化大革命 (D)改革開放

Ans : C(4-3)

36. 關於中華人民共和國1980年代後的局勢發展，下列敘述何者正確？

(A)習近平結束文化大革命，重掌政權 (B)中共放棄武力犯臺，改採和平往來  
(C)在沿海設立經濟特區，引外資進入 (D)在政治制度，改採民主自由的模式

Ans : C(5-1)

37. 中國大陸製造業蓬勃發展，被稱為「世界工廠」，主要有三個原因：一是中國是外資直接投資最多的國家；二是中國擁有世界上規模最大的消費市場；第三個原因可能為下列何者？

(A)生產效率達最高 (B)勞力充足工資低  
(C)企業經營規模大 (D)農業產值比重高

Ans : B(5-2)

38. 1954年美國某位國務卿召開記者會，宣告即將與中華民國外交部部長簽《中美共同防禦條約》，要讓兩國未來的共同軍事合作，能有長期正式條約為依據。請問：該條約最可能是哪一場戰爭結束後帶來的影響？

(A)第一次世界大戰 (B)第二次世界大戰 (C)韓戰 (D)越戰

Ans : D(6-1)

39. 美國於1970年間開始調整對中國的政策，其改變原因為何？

(A)顧忌中共的強大武力 (B)覬覦中共的廣大市場



(C)欲拉攏中共對抗蘇聯

(D)為討好蘇聯向中共釋出善意

Ans: C(6-1)

40. 1950年代起，美國因應共黨國家在東亞的擴張，聯合友好國家採取圍堵政策。請問：下列選項中，何者是圍堵政策的產物？

(A)不結盟運動 (B)雅爾達密約 (C)東南亞公約組織 (D)東南亞國家協會

Ans: C(6-2)

【地理科】

41. ( B )下列哪一個國家位於太平洋與印度洋的咽喉位置，成為全球重要的航運樞紐？

(A)越南 (B)新加坡 (C)柬埔寨 (D)菲律賓

42. ( C )西元 2021 年 4 月適逢伊斯蘭教傳統的齋戒月，臺灣許多企業配合國際移工的禁食需求，彈性調整上班時間。請問：下列哪一個國籍的移工較常有此需求？

(A)泰國 (B)越南 (C)印尼 (D)菲律賓

43. ( D )近年來，緬甸西部的穆斯林少數民族「羅興亞人」，遭到信仰佛教的主要族群「緬族」的迫害，引起國際關注。下列哪一個東南亞國家，因為多數人信仰相同的宗教，因此對羅興亞人有較多的同情？

(A)泰國 (B)柬埔寨 (C)菲律賓 (D)馬來西亞

44. ( A )右圖是南亞氣候三季示意圖，若只考慮氣溫、降水因素，何者是最適合到南亞旅遊的季節？

(A)甲(B)乙(C)丙



45. ( C )印度東北部的乞拉朋吉號稱「雨極」，是全球降水量最多的地區。依據其氣候條件，當地農民最可能選擇何種農作物進行種植？

(A)棉花 (B)小麥 (C)茶樹 (D)黃麻

46. ( B )印度的高等教育發達、理工人才眾多，最有利於吸引下列何種產業的外國企業前往投資？

(A)電話客服產業 (B)軟體設計產業 (C)紡織成衣產業 (D)熱帶栽培產業

47. ( B )西亞與北非作為同一個文化區，主要是依據哪一項人文環境的同質性？

(A)經濟發展程度 (B)主要宗教信仰 (C)建築景觀特色 (D)各國官方語言

48.



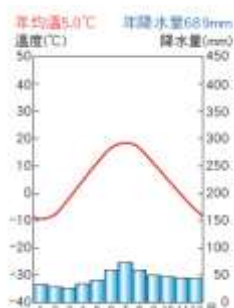
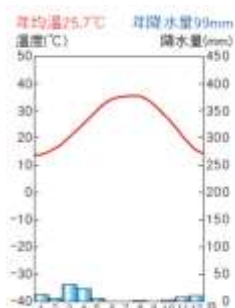
( A )西亞與北非大部分地區多屬於下列哪一種氣候類型？

(A)

(B)

(C)

(D)



49. ( C )西亞與北非的居民為了充分利用珍貴的綠洲，會在較低矮的糧食作物間種植較高的果樹與棗椰，其主要目的為何？

(A)阻擋強風、保護作物(B)驅趕蚊蟲、防止疾病(C)遮蔽日光、減少蒸發(D)糧食過剩、轉作果樹

50. ( B )穆斯林在飲食上有嚴格規定，如禁食腐肉及豬肉，每天禮拜以前，必須穿著乾淨衣物，並將臉、手、足洗淨。這些教義的實施，除了彰顯信徒的虔誠，也可以達成何項目的？

(A)避免環境破壞 (B)注重個人衛生 (C)平衡貧富差距 (D)緩解文化矛盾

51. ( D )西元九世紀是伊斯蘭文明的黃金時代，此時巴格達不但是世界學術中心、商業貿易樞紐，文更是國際語言，有許多記載著知識技術的書籍，被翻譯成[ ]文收藏在巴格達。上文中的[ ]所指的應為下列何者？  
(A)拉丁 (B)埃及 (C)以色列 (D)阿拉伯
52. ( D )西亞與北非為主的產油國，於一九六〇年代成立某組織，企圖透過產油國之間的合作，協調各國石油產量與控制國際油價。該組織應為下列何者？  
(A)WTO (B)RCEP (C)APEC (D)OPEC
53. ( A )在缺乏水源的西亞與北非，流經多國的河流常是引發水權紛爭的主因，引發以色列與巴勒斯坦水權問題的是哪一條河流？  
(A)約旦河 (B)尼羅河 (C)底格里斯河 (D)幼發拉底河
54. ( B )位於兩個廣大陸地間的狹窄連接處，在全球海運上經常以挖掘運河的方式來節省航運里程，其中最有名的為蘇伊士運河和巴拿馬運河。關於蘇伊士運河的地理位置，下列敘述何者正確？  
(A)位於沙烏地阿拉伯 (B)位於亞非兩洲之間  
(C)是太平洋連結大西洋海域的最短路線 (D)是將波斯灣沿岸的石油運往亞洲的必經之路
55. ( B )小乖觀察地理課本中的非洲地形圖，發現圖中以不同顏色表示不同高度，非洲許多地區大面積顏色相同，僅部分地區因板塊運動在小範圍內顏色變化明顯。小乖發現的「小範圍內顏色變化明顯」的地理區，最有可能位於非洲何處？  
(A)剛果盆地 (B)東非大裂谷 (C)撒哈拉盆地 (D)尼羅河三角洲
56. ( D )非洲蘊藏極為豐富的礦產資源，世界上最重要的 53 種礦產在非洲都有，如鉻、鎳、鈷、鉑、金、鈾、銅等。非洲蘊含豐富礦藏，與下列何者的關係最密切？  
(A)多濃密的原始森林 (B)沙漠面積十分廣大 (C)河流侵蝕切割劇烈 (D)地層為古老結晶岩
57. ( B )現今非洲許多國家的國內政治及經濟活動，深受早期殖民母國影響，形成該地區國家的發展問題。請問：這些殖民母國當時以掠奪非洲哪些資源為主要目標？(甲)人力資源 (乙)漁業資源 (丙)農、礦資源 (丁)林業資源  
(A)甲乙 (B)甲丙 (C)乙丙 (D)丙丁
58. ( D )右圖為公平貿易標章，圖樣呈現了一個人在藍天綠地中，揮手歡呼的意象。目前有一些組織積極的推動公平貿易，主要是想要幫助非洲農民解決下列哪一項問題？  
(A)電力設備不足 (B)飲用水不清潔 (C)糧食作物不足 (D)農業收入微薄
59. ( C )雜誌報導：「受限於某項發展上的限制，非洲東部的肯亞直接跳過固網(指透過金屬線等固態媒體傳送訊號的電信網路)而發展行動網路，跳過銀行而由電信公司發展支付系統，成為非洲的科技中心。手機目前是居民做生意的工具，以及與銀行來往的媒介。」由文中推論，該項「發展上的限制」是指下列何者？  
(A)平均壽命較低 (B)人民普遍貧窮 (C)基礎設施不足 (D)識字人口不多
60. ( B )某部落的主要維生方式如下：「焚燒草木以闢地耕種，將灰燼充作肥料以利作物生長，待地力用盡則另遷他處耕種。」該部落分布地區的氣候圖最接近下列何者？  
(A) (B) (C) (D)

