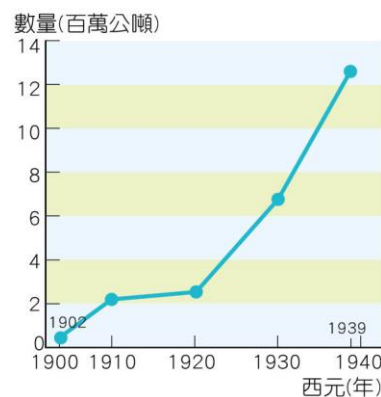
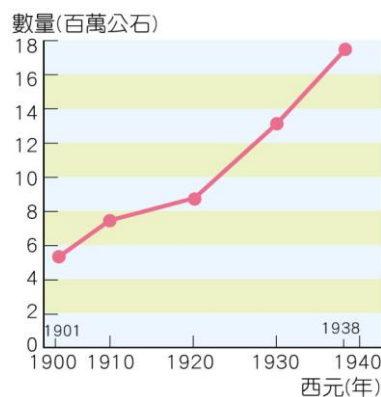


## 七下歷史補考題庫

- (C) 1. 西元1895年，清帝國於甲午戰爭中戰敗，將臺灣、澎湖等地割讓給日本。臺灣官紳痛心疾首，為反抗日本的殖民統治，決定成立下列哪一組織？  
(A)總督府 (B)臺灣府 (C)臺灣民主國 (D)荷蘭聯合東印度公司
- (A) 2. 日本治臺初期，為了鞏固在臺灣的統治，總督府曾推行何種制度，加強對地方的管控，使社會秩序漸趨穩定？  
(A)警察制度 (B)「理蕃」政策 (C)劃界封山 (D)開山撫番
- (D) 3. 西元1930年，臺灣曾爆發一場大規模的原住民抗日行動，日本軍警更是以飛機、大炮等武器攻打原住民部落，引發國際輿論撻伐。此次原住民的行動是由何人領導？  
(A)劉永福 (B)余清芳 (C)唐景崧 (D)莫那魯道
- (D) 4. 日治時期，臺灣民間曾流行「第一憨，種甘蔗予會社磅」的諺語，此諺語反映出臺灣社會的何種現象？  
(A)蔗農人數過多 (B)甘蔗產量大增 (C)甘蔗種植不易 (D)蔗農備受壓榨
- (A) 5. 一九三〇年代以來，總督府積極在臺灣推動工業化建設，且將經濟政策調整為「工業臺灣，農業南洋」，此次調整經濟政策的目的為何？  
(A)視臺灣為日本進軍南洋的重要跳板  
(B)臺灣農業遭遇困境，轉向工業發展  
(C)臺灣礦產資源豐富，適合發展工業  
(D)吸引外國投資，加速臺灣工業發展
- (C) 6. 下列是西元1900～1940年配合 2-1 臺灣稻米與蔗糖的生產數量圖。請根據圖中資料回答問題。



▲圖1 日治時期臺灣稻米生產量圖 ▲圖2 日治時期臺灣蔗糖生產量圖

當時為了供應日本人的喜好與需求，大力推廣種植何種稻米？

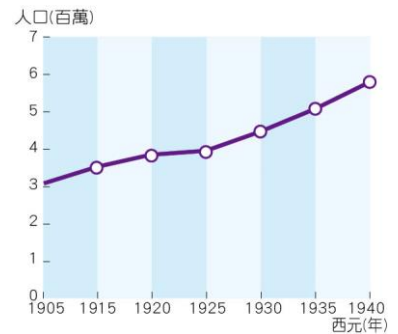
- (A) 香米 (B)糯米 (C)蓬萊米 (D)在來米
- (C) 7. 西元1902年時，臺灣到東京求學的學生為三十多人，至西元1920年時已增至九百多人。關於此現象背景的理解，下列說明何者最為恰當？  
(A)臺灣的基礎教育十分普及 (B)總督府的教育政策相當成功  
(C)臺灣的中高等教育仍然不足 (D)臺灣民眾的抗日意識已經瓦解
- (B) 8. 歷史老師在課堂上說：「花岡一郎(賽德克族族名Dakis Nomin)與花岡二郎(族名Dakis Nawi)的名字是日本人取的，兩人既不是兄弟，也非日本人，卻進入埔里小學校就讀，是受到日

本人精心培養的原住民青年。他們的婚姻由日本人安排，家庭生活也深受日本影響，與一般日本人幾乎相同……」根據上述的內容，老師應該正在講述哪一個主題？

- (A)開山撫番與原住民非武裝抗日 (B)教化措施與原住民傳統的變遷  
(C)劃界封山與原住民族群的復興 (D)理蕃政策與原住民土地的流失

- (C) 9.右圖是日治時期臺灣人口成長圖。請問：圖中西元1925～1930年間，因為什麼原因，促使人口激增？

- (A)日本政府鼓勵日本人大量遷居臺灣  
(B)中國大陸東南沿海的人民大量移居臺灣  
(C)總督府推動現代化防疫與建立衛生觀念  
(D)葡萄牙與西班牙等國來臺灣進行貿易活動



- (D) 10.專賣局緝私組人員查獲林江邁販賣私菸，因而沒收私菸與現金，並毆打林婦致傷，引起眾怒。緝私組員開槍誤殺圍觀民眾，並利用混亂情勢逃逸，群眾擁向警察局，要求逮捕凶犯。這是哪一事件的敘述？

- (A)白色恐怖 (B)雷震事件 (C)美麗島事件 (D)二二八事件

- (B) 11.在中華民國政府頒布政策後，原住民原有的命名方式被破壞，且因其國語能力不佳或行政人員的缺失，導致同一家庭成員出現姓氏不同的問題。請問：上述中華民國政府所頒布的政策為何？

- (A)說國語 (B)改用漢姓 (C)設山地鄉 (D)劃定原住民保留地

- (B) 12.「□主張民主政治必須要有反對黨，他曾想結合來自中國大陸的民主人士與臺灣本土的政治精英，籌組中國民主黨，結果遭到執政者鎮壓。」上述的□應是指何人？

- (A)陳儀 (B)雷震 (C)林獻堂 (D)蔣經國

- (B) 13.這一年，是海峽兩岸外交力量的分水嶺。因為這一年的某事件後，中華民國在許多國際組織遭到排擠，許多邦交國也轉與中華人民共和國建交，加深中華民國的孤立。請問：下列哪一事件是造成海峽兩岸國際地位轉變的關鍵？

- (A)民國47年，金門八二三炮戰  
(B)民國60年，中華民國退出聯合國  
(C)民國61年，日本與中華民國斷交  
(D)民國68年，美國與中華人民共和國建交

- (A) 14.西元1978年5月，美國白宮官員出訪中華人民共和國時表示：「我國總統決定將實現美國與中華人民共和國關係的正常化，並且美國有意與其建立邦交關係。」請問：下列何者是美國與中華人民共和國建交的主要目的？

- (A)兩國聯合抑制蘇聯的擴張  
(B)向中華人民共和國推展民主制度  
(C)與中華人民共和國合力開發核武  
(D)讓中華人民共和國成為聯合國會員國

- (B) 15. 小安整理家裡的老照片，其中一張照片是叔公小時候，身上的衣服出現中、美兩國的合作標記，如同右圖所呈現。請問從圖片上的標記及字樣推測，這張照片的拍攝年代最可能是哪一個時期？



- (A) 民國二十年代 (B) 民國四十年代  
(C) 民國七十年代 (D) 民國八十年代
- (D) 17. 民國六十年代的國際能源危機，對臺灣經濟造成嚴重衝擊，政府如何處理當時的經濟困境？  
(A) 進行土地改革，引導地主投資工商業  
(B) 鼓勵輕工業商品出口，拓展海外貿易  
(C) 積極加入國際組織，並降低貿易限制  
(D) 推動十大建設，改善國內的投資環境
- (C) 18. 臺灣某個時期「政府強勢收購地主土地，再轉售給實際耕作的農民，許多農民因此開始有了自己的耕地。但農民並非無償取得土地，他們必須分擔改善灌溉設施的費用，並以分期付款的方式來獲得土地的所有權。」這是對哪一項政策的描述？  
(A) 三七五減租 (B) 公地放領  
(C) 耕者有其田 (D) 設置原住民保留地
- (C) 19. 民國七十年代末期，原住民、客家、勞工、婦女等群體，紛紛透過社會運動爭取權益。這些群體能夠走上街頭表達訴求，是在哪一個政策推行之後？  
(A) 推行土地改革 (B) 推動十大建設  
(C) 宣布解除戒嚴 (D) 推動農山漁村轉型
- (B) 20. 巧巧的阿媽回憶年輕時期，念書時的校園裡一大片牆面，上面畫了兩名學生，身旁寫著「保密防諜，人人有責」。若巧巧回到阿媽所說的時代，會見到什麼情形？  
(A) 政府為了改善臺灣金融環境，建立臺灣銀行  
(B) 高雄設立加工出口區，引進外資，擴大出口  
(C) 原住民發動「還我土地」運動，以爭取權益  
(D) 臺灣加入世界貿易組織，積極拓展國際貿易