










新北市立林口國民中學九年級第二學期社會複習講義（歷史）												
16	A	約西元前 3500 年開始，人類歷史陸續發展出高度文明，如：西亞的蘇美、埃及古王國及中國殷商時期，下列何者為上述古文明的共同特色？ (A)出現文字 (B)強調一神信仰 (C)實施種姓制度 (D)建立跨歐亞的帝國										
17	D	下表呈現某帝國的形勢演變，此帝國最可能是下列何者？ (A)奧匈帝國 (B)拜占庭帝國 (C)神聖羅馬帝國 (D)鄂圖曼土耳其帝國										
		<table><tr><th>時間</th><th>形勢演變</th></tr><tr><td>十三世紀</td><td>興起於安納托利亞高原</td></tr><tr><td>十六世紀</td><td>掌控巴爾幹半島，邁向全盛時期</td></tr><tr><td>十九世紀</td><td>因俄國、英國、法國的侵略而衰弱</td></tr><tr><td>二十世紀</td><td>第一次世界大戰戰敗，帝國瓦解</td></tr></table>	時間	形勢演變	十三世紀	興起於安納托利亞高原	十六世紀	掌控巴爾幹半島，邁向全盛時期	十九世紀	因俄國、英國、法國的侵略而衰弱	二十世紀	第一次世界大戰戰敗，帝國瓦解
時間	形勢演變											
十三世紀	興起於安納托利亞高原											
十六世紀	掌控巴爾幹半島，邁向全盛時期											
十九世紀	因俄國、英國、法國的侵略而衰弱											
二十世紀	第一次世界大戰戰敗，帝國瓦解											
18	D	以下是中國某朝代首都的簡介：「這是一座依計畫興建的城市，城中可見基督教教堂、伊斯蘭教清真寺及佛教寺廟。朝廷聘用色目人擔任財政官員，並推行全國性紙幣政策，加上各地物資的集中，讓這座城市成為金融經濟中心。」上述城市最可能是指下列何者？ (A)東漢 洛陽 (B)唐代 長安 (C)北宋 汴京 (D)元代 大都										
19	B	阿華至博物館參觀 <u>卑南</u> 文化遺址的展覽，他最可能在展覽中看到哪一項該史前文化的出土文物？ (A) (B) (C) (D)										
<table><tr><td></td><td></td><td></td><td></td></tr></table>												
												
20	C	以下是 <u>清末</u> 文人對某事件的描述：「當時在官府的默許下，群眾進入 <u>天津</u> 租界，縱火焚燒教堂、房屋，於是各街市店鋪有販售洋貨者，皆用紅紙將招牌上的『洋』字糊上，以防群眾焚掠。即便是一般家庭日用之物，如洋燈、鐘錶等類，也都掩藏不敢使用。」根據上文判斷，此事件最可能是下列何者？ (A)鴉片戰爭 (B)英法聯軍 (C)義和團事變 (D)太平天國起事										
21	A	二十世紀初期，霍亂、瘧疾等傳染病在 <u>臺灣</u> 相當普遍，對當時政府而言，防治傳染病是刻不容緩的議題。下列何者 最不可能 是當時官方及民間採行的措施？ (A)政府實施全民健康保險 (B)公學校加強衛生教育課程 (C)保甲要求居民定期清潔環境 (D)警察協辦衛生及防疫宣導演講										
22	D	十九世紀的馬克思共產主義學說與小說家狄更斯寫實主義作品，對當時人們的思想有極大的影響力，下列何者最可能是二人在學說及作品上的主要共同點？ (A)支持歐洲帝國主義在各地殖民擴張 (B)強調個人情感抒發與崇拜英雄事蹟 (C)對法西斯政權的專制作為表示質疑 (D)對工業革命下的歐洲社會提出反省										